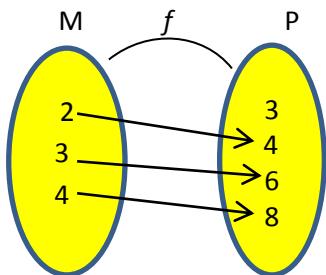




ACTIVIDAD N° 1 (Taller) - PERIODO II - GRADO 9°
Taller Trabajo grupal (2 estudiantes)
TEMA: Funciones (Elementos, representación, identificación)

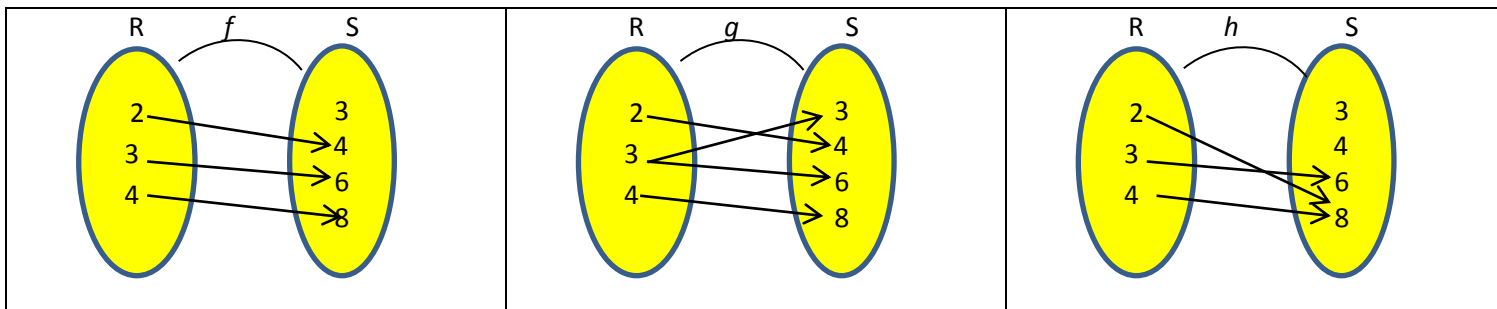


1. En matemáticas, ¿qué es una función?
2. Determina los elementos en la función $f: M \rightarrow P$

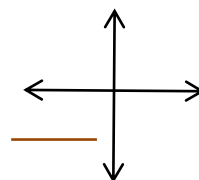
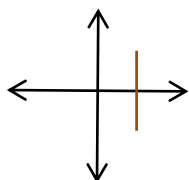
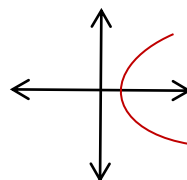
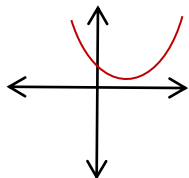
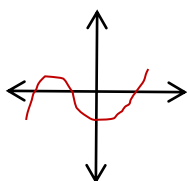


DOMINIO:
CODOMINIO:
RANGO:
GRAFO:

3. Determina cuál de las siguientes correspondencias son funciones y cuáles no. Justifica tu respuesta.



4. Escribe las formas en que se puede representar una función.
5. Identifica cuál de las gráficas corresponden a funciones. Justifica tu respuesta



Nota: Resolver este taller en grupo de dos estudiantes, presentarlo en hojas de bloc con su debida hoja de presentación en el tiempo indicado.